

«به نام خالق مهربانی ها»

دبستان شهید رضایی منظریه

نام و نام خانوادگی دانش آموز :

ارزشیابی نیمسال اول درس ریاضی

۱. برای هر قسمت جواب مناسب بنویسید.

- بیشترین عدد یک رقمی و کوچکترین عدد یک رقمی است.
- بیشترین عدد دو رقمی و کوچکترین عدد دو رقمی است.
- عدد ۱۶ به ۲۰ نزدیکتر است یا به ۱۰؟
- مثلث ضلع و گوشه دارد.
- ۱ سکه ۱۰۰ ریالی برابر است با سکه ۱۰ ریالی.
- ۶ دسته ده تایی منهای دسته ده تایی می شود ۲ دسته ده تایی
- ۲ دسته ده تایی به اضافه ی دسته ده تایی می شود ۸ دسته ده تایی

۲. حاصل عبارت های زیر را حساب کنید.

$۱۹ - ۵ =$ (شکل)

$۱۲ + ۴ =$ (چوب خط)

$۷۰ + ۴۰ =$ (شکل)

جزوه سیتی

(چکمه ای)

$$\begin{array}{r} ۶۸ \\ + ۱۹ \\ \hline \end{array}$$

$$\begin{array}{r} ۹۴ \\ - ۶۶ \\ \hline \end{array}$$

$$\begin{array}{r} ۶۵ \\ + ۱۸ \\ \hline \end{array}$$

$$\begin{array}{r} ۳۹ \\ - ۲۶ \\ \hline \end{array}$$

$$\begin{array}{r} ۷۱ \\ + ۲۴ \\ \hline \end{array}$$

$$\begin{array}{r} ۳۴ \\ - ۱۲ \\ \hline \end{array}$$

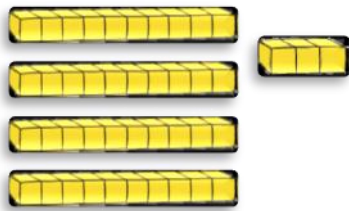
۳. حاصل عبارت ($۱۲ + ۶ - ۳$) را در محور اعداد نشان دهید.



۴. با کارت های ۳ ۶ ۹ تمام عدد های سه رقمی را بسازید و بنویسید.

یکان	دهگان	صدگان

۵. با توجه به شکل ها برای هر کدام جدول ارزش مکانی بکشید و عدد ها را به حروف و عدد بنویسید.



جزوه سیتی

۶. تفاوت و شباهت دو شکل زیر را بنویسید.



۷. جواب جمع و تفریق ها را به صورت تقریبی به دست آورید.

$$\begin{array}{r} 53 \longrightarrow \dots\dots \\ +29 \longrightarrow +\dots\dots \end{array}$$

الف)

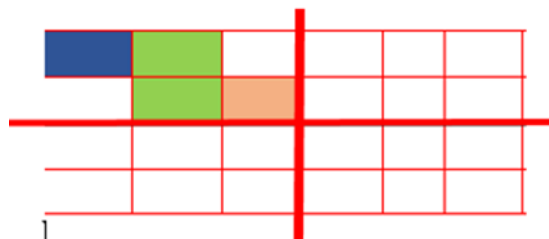
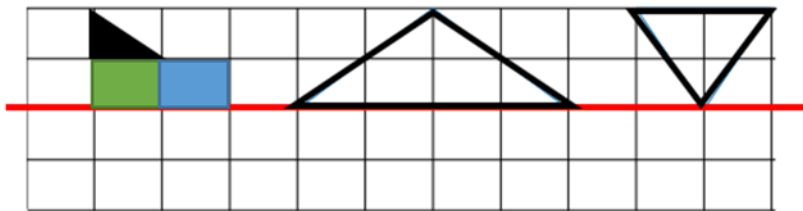
$$\begin{array}{r} 68 \longrightarrow \dots\dots \\ -41 \longrightarrow -\dots\dots \end{array}$$

ب)

$$\begin{array}{r} 29 \longrightarrow \dots\dots \\ +49 \longrightarrow +\dots\dots \end{array}$$

ج)

۸. با توجه به خط تقارن شکل را بکشید.



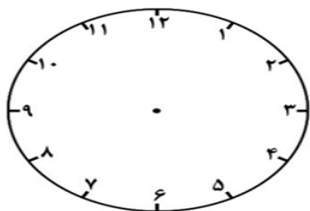
۹. جدول های زیر را کامل کنید. جمع و تفریق ها را انجام دهید.

+	۳	۴	۵	۶
۵				
۸				

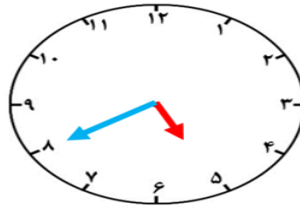
-	۵	۳	۲
۷			
۱۳			

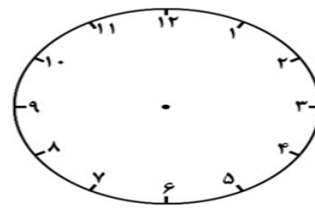
۱۰. هستی ۳۵ صفحه از کتاب داستان را مطالعه کرده است. اگر او ۱۷ صفحه بیشتر از خواهرش مطالعه کرده باشد خواهر هستی چند صفحه کتاب مطالعه کرده است؟

۱۱. ساعت ها را کامل کنید.



۸ : ۳۰





یک ربع مانده به ۱۲

موفق باشید

نیاز به تلاش

قابل قبول

خوب

خیلی خوب